
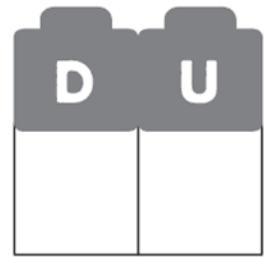


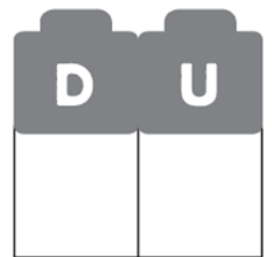
Rodea las decenas de rojo y las unidades de azul, y completa.



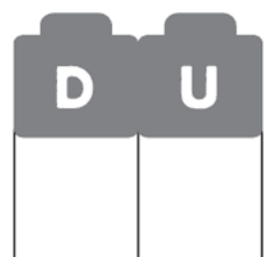
$$\square + \square = \square$$



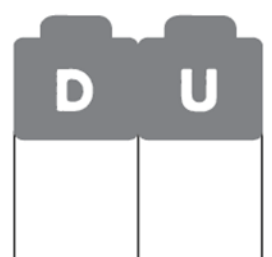
$$\square + \square = \square$$



$$\square + \square = \square$$



$$\square + \square = \square$$



Realiza estas sumas

$$\begin{array}{r} 26 \\ +13 \\ \hline \end{array}$$

$$\begin{array}{r} 17 \\ +12 \\ \hline \end{array}$$

$$\begin{array}{r} 23 \\ +61 \\ \hline \end{array}$$

$$\begin{array}{r} 20 \\ +41 \\ \hline \end{array}$$

$$\begin{array}{r} 15 \\ +34 \\ \hline \end{array}$$

Completa las series con los números que faltan.

→

71	72	73					78			81
----	----	----	--	--	--	--	----	--	--	----

41	42			45			49		
----	----	--	--	----	--	--	----	--	--

↓ Escribe con letra, en cada caso, el número posterior.

32 →

9 →

46 →



Ayuda al pirata a encontrar su tesoro, contando de 1 en 1. Comienza en la casilla coloreada.

48	49	50				36	35	6
47	8	1				37	34	27
46	45	2				38	33	32
37	44	43	42	41	40	39	36	31
2	3	4	5	6	31	28	29	30
1	10	9	8	7	30	27	26	25
0	11	12	13	12	33	20	36	24
			14	29	32	11	15	23
			15	30	31	22	26	22
			16	17	18	19	20	21

→

↩