

## MATEMÁTICAS – 4º de E.P.

Buenos días a todos/as:

- Hoy, jueves 4, tendremos que comprobar si contasteis bien los elementos del prisma

Completa el cuadro, referido al cuerpo geométrico anterior:

		TOTAL
CARAS	CARAS LATERALES	4
	BASES	2
VÉRTICES		8
ARISTAS		12

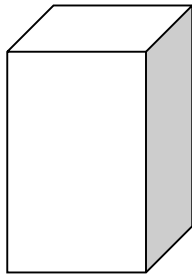
- A continuación, os dejaré una hoja para diferenciar:



“PRISMAS Y PIRÁMIDES”

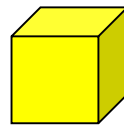
Tienes que copiar la página siguiente.

# PRISMAS

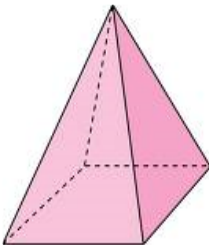


- Tienen todas las caras planas.
- Tienen 2 bases (son polígonos iguales).
- Las caras laterales son cuadriláteros.

El cubo es un prisma especial:  
"todas sus caras son cuadrados"



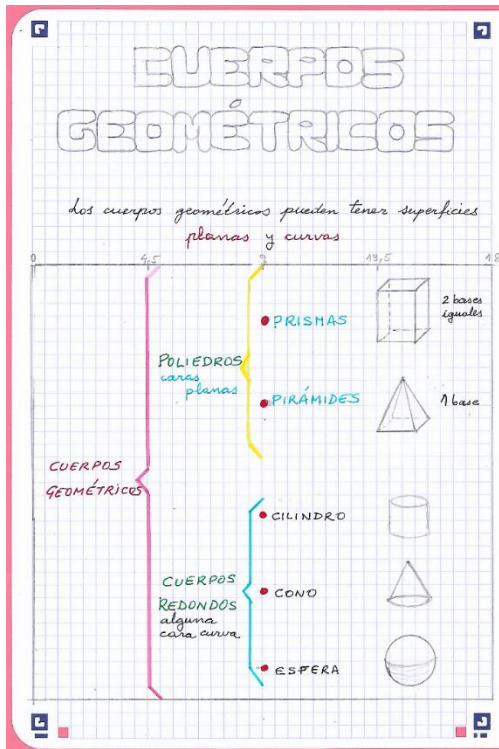
# PIRÁMIDES



- Tienen todas las caras planas.
- Tienen 1 base.
- Las caras laterales son triángulos.

Los prismas y las pirámides reciben el nombre por la forma de las bases:

FORMA DE LA BASE	PRISMA	PIRÁMIDE
triángulo	prisma triangular	pirámide triangular
cuadrado	prisma cuadrangular	pirámide cuadrangular
pentágono	prisma pentagonal	pirámide pentagonal
...	...	...



**ENVÍAME ESTAS  
2 HOJAS TERMINADAS  
ANTES DEL DOMINGO**

**ELEMENTOS**

En los cuerpos geométricos podemos distinguir:

- > **CARAS** → Dos tipos
  - LATERALES
  - BASES
- > **ARISTAS** → Líneas donde se unen dos caras
- > **VÉRTICES** → Puntos donde se unen las aristas

Completa el cuadro, referido al cuerpo geométrico anterior:

		TOTAL
CARAS	CARAS LATERALES	
	BASES	
VÉRTICES		
ARISTAS		

AQUÍ **TERMINAMOS** por hoy,...



**¡Hasta el lunes!**

