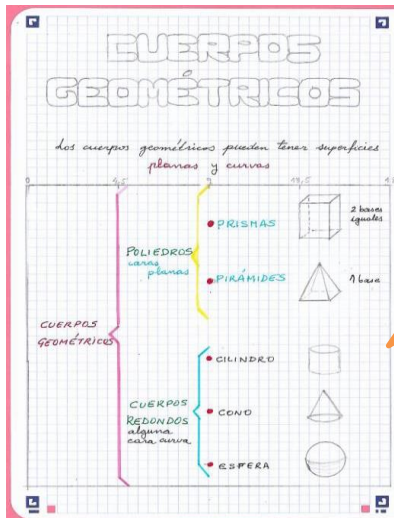


MATEMÁTICAS – 4º de E.P.

Buenos días a todos/as:

- Hoy, miércoles 3, deberíais tener esta hoja terminada y con el título coloreado, no dejéis las cosas a medias.



ENVÍAME ESTA HOJA
Y LA SIGUIENTE
(ELEMENTOS)
ANTES DEL DOMINGO

- Ahora, un poquito más sobre:



“CUERPOS
GEOMÉTRICOS”

- Primero vais a ver unos vídeos:

¿Qué son cuerpos geométricos? <https://youtu.be/li6SyoOdEs0>

Clasificando poliedros: https://youtu.be/GQ_VDAuupqE

Clasificando cuerpos redondos: <https://youtu.be/V66oLG2sQh4>

Elementos: <https://youtu.be/ckHjN42XQbw>

- Ya estás en condiciones de estudiar los **ELEMENTOS** de los cuerpos geométricos. ¡Es muy fácil!

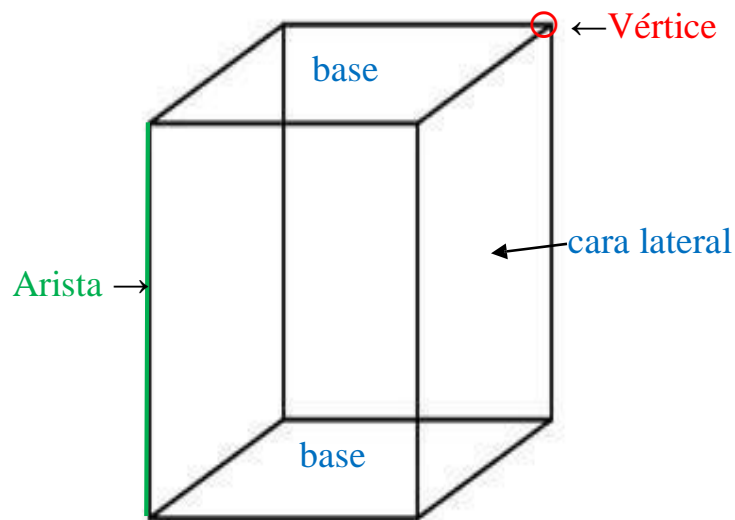
- Tienes que copiar la página siguiente. Para que te sea más fácil hacer el prisma, en la hoja que continúa te lo hago en papel cuadriculado, así cuentas los cuadros y sin correr, te saldrá bien.

Sigue los consejos.

ELEMENTOS

□ En los cuerpos geométricos podemos distinguir:

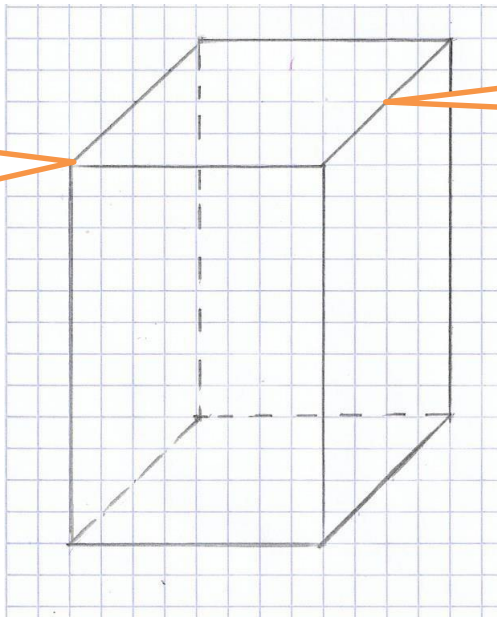
- **CARAS** → Dos tipos $\left\{ \begin{array}{l} \text{LATERALES} \\ \text{BASES} \end{array} \right.$
- **ARISTAS** → Líneas donde se unen dos caras
- **VÉRTICES** → Puntos donde se unen las aristas



□ Completa el cuadro, referido al cuerpo geométrico anterior:

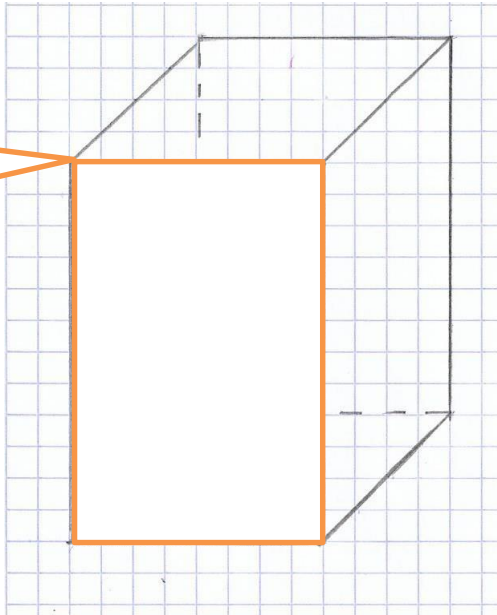
		TOTAL
CARAS	$\left\{ \begin{array}{l} \text{CARAS LATERALES} \\ \text{BASES} \end{array} \right.$	
VÉRTICES		
ARISTAS		

Es más fácil
empezar por este
punto



Esta línea va
cruzando los
cuadrados

Primero haz el
rectángulo que está
de frente



AQUÍ **TERMINAMOS** por hoy,...

¡Hasta



mañana!

