

MATEMÁTICAS – 4º de E.P.

Buenos días a todos/as:

Hoy, jueves 28, vamos a corregir las dos divisiones.

DIVISIONES

$$\begin{array}{r} 24680 \overline{) 92} \\ \underline{628} \\ 760 \\ \underline{24} \\ 24680 \end{array}$$

PRUEBA

$$\begin{array}{r} 267 \\ \times 92 \\ \hline 536 \\ + 2412 \\ \hline 24656 \\ + 24 \\ \hline 24680 \end{array}$$

$$\begin{array}{r} 29652 \overline{) 74} \\ \underline{0052} \\ 400 \end{array}$$

¿Exacta o entera? entera

¿Por qué? porque el resto no es cero

➤ Ahora vamos a dar un paseo por el tiempo:



“ EL RELOJ ”

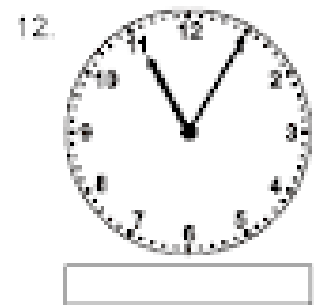
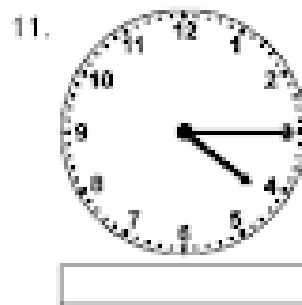
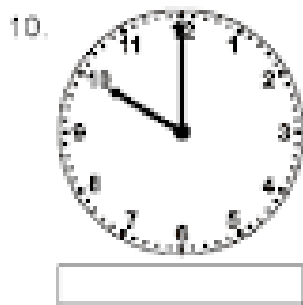
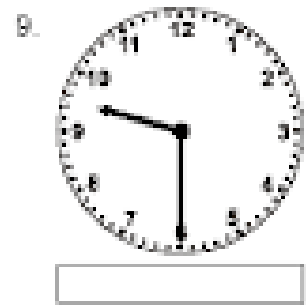
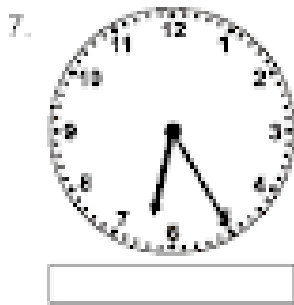

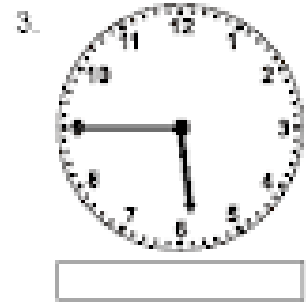
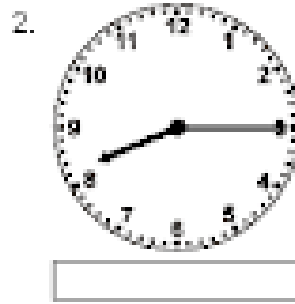

RECUERDA: La hora que marca el reloj la podemos expresar de forma analógica y de forma digital. También tendremos en cuenta si estamos antes del mediodía o después de mediodía.

PREPARADOS / AS ????

EL RELOJ

- *Escribe la hora que marcan los siguientes relojes, de forma analógica y digital. La forma analógica es la misma antes del mediodía y después del mediodía, la forma digital es diferente.*

Fíjate en el ejemplo y completa:



Nº	analógica	digital	
		A.M.	P.M.
1	Las 4 menos 25	03:35	15:35
2			
3			
4			
5			
6			
7			
8			
9			
10			
11			
12			

AQUÍ **TERMINAMOS** por hoy,...

¡Hasta



el lunes!

