

MATEMÁTICAS – 4º de E.P.

Buenos días a todos/as:

Hoy, martes día 26, seguimos con más cosas sobre polígonos, así que no corregiremos hasta terminar todos los ejercicios de este tema.

➤ Entonces, seguiremos con el repaso, y haremos:



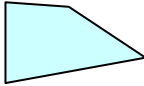
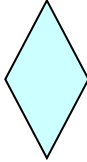




“+ POLÍGONOS”

- Lee con mucha atención antes de empezar a resolver.
- Deja cinco cuadrados desde el último ejercicio y empieza con los ejercicios de hoy.

¡¡¡¡¡Mucho ánimo y vamos a empezar!!!!

PREPARADOS / AS ????

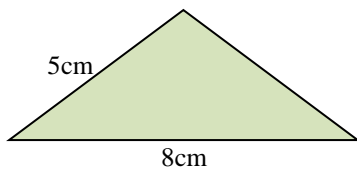
Clasifica los cuadriláteros.

1	2	3	4	5	6
					
1.		3.		5.	
2.		4.		6.	

RECUERDA: El perímetro de un polígono es lo que mide a su alrededor.
Se calcula sumando la medida de todos sus lados

El lado de un triángulo equilátero mide 12 cm. ¿Cuánto mide su perímetro? R:


Calcula el perímetro del siguiente polígono. ¡Fíjate bien!



El perímetro de un rombo es de 28 cm. ¿Cuánto mide cada lado de ese rombo?

R:

Calcula el perímetro del rectángulo R:



AQUÍ **TERMINAMOS** por hoy,...

¡Hasta



mañana!

