







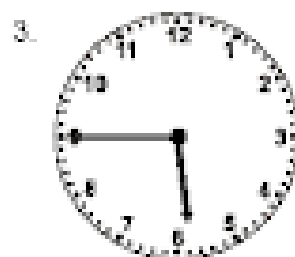
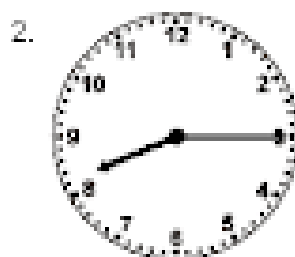


MATEMÁTICAS – 4º de E.P.

Buenos días a todos/as:

Hoy, lunes 1, como estrenamos mes y semana vamos a empezar con mucha fuerza.

Tenemos las horas de los siguientes relojes:



Nº	analógica	digital	
		A.M.	P.M.
1	Las 4 menos 25	03:35	15:35
2	Las 8 y cuarto	8:15	20:15
3	Las 6 menos cuarto	5:45	17:45
4	Las 9 menos 10	8:50	20:50
5	Las 2 menos 20	1:40	13:40
6	Las 8 menos 10	7:50	19:50
7	Las 6 y 25	6:25	18:25
8	Las 2 y 5	2:05	14:05
9	Las 9 y media	9:30	21:30
10	Las 10 en punto	10:00	22:00
11	Las 4 y cuarto	4:15	16:15
12	Las 11 y 5	11:05	23:05

➤ Ahora vamos entrar en un mundo nuevo, el de los...




“CUERPOS
GEOMÉTRICOS”

PREPARADOS / AS ????

CUERPOS GEOMÉTRICOS

Los cuerpos geométricos pueden estar formados por:

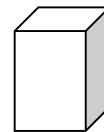
- *Superficies planas*
- *Superficies curvas*



CUERPOS GEOMÉTRICOS

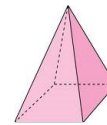
POLIEDROS (todas las caras planas)

PRISMAS



(tienen 2 bases iguales)


PIRÁMIDES



(tienen 1 base)

CUERPOS REDONDOS (alguna cara curva)

CILINDRO



CONO



ESFERA



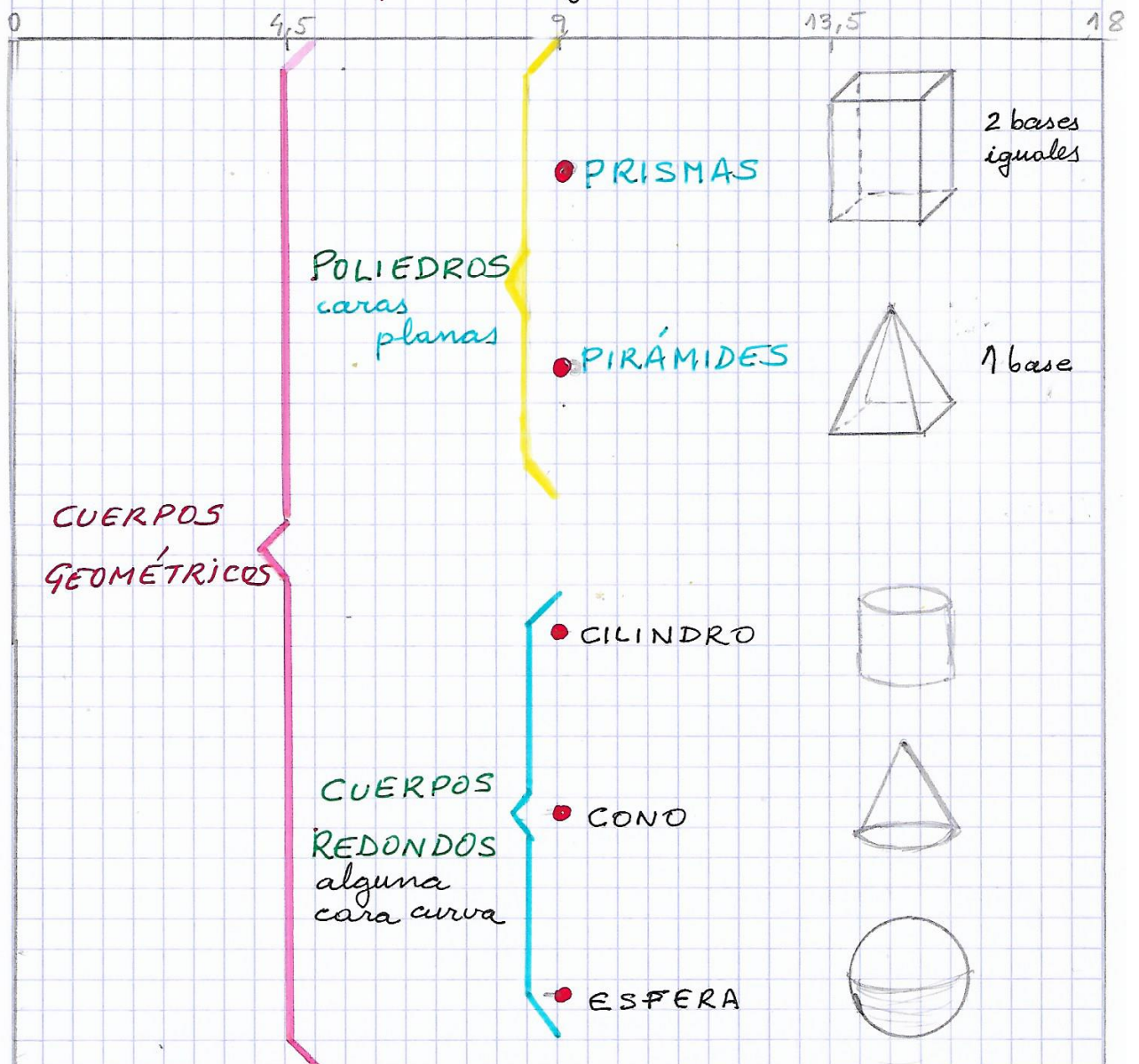
- Vas a intentar copiar la página anterior a partir de la ayuda que te facilito en la siguiente página, en libreta cuadriculada.
- El trabajo es para la sesión de lunes y martes, por lo tanto, empieza despacio y con lápiz hasta que tengas organizado como vas a repartir el espacio.
- Utiliza distintos colores como en el modelo, y con buena letra.

Otra tarea que tienes que hacer es fijarte por casa que cuerpos tienen forma de prisma, de pirámide, de cilindro, de cono y de esfera; y anotar sus nombres en una hoja de sucio.

- El miércoles os espero con los nombres aprendidos y preparados para distinguir las figuras que os enseñaré.

CUERPOS GEOMÉTRICOS

Los cuerpos geométricos pueden tener superficies planas y curvas



AQUÍ **TERMINAMOS** por hoy,...

¡Hasta



el miércoles!

