

Recuerda colocar las unidades debajo de las unidades...

Resuelve el problema.

En la granja hay 238 animales. Si traen 12 más. ¿Cuántos animales habrá ahora?

DATOS

Hay animales
 Traen animales

RAZONAMIENTO

Hay que calcular... Hay que...

el total sumar.

la diferencia restar.

OPERACIÓN

SOLUCIÓN

Escribe como se leen.

Recuerda que los números del 0 al 30 se escriben con **una palabra**, del 31 al 99 se escriben con **tres palabras** excepto las **decenas completas (setenta, ochenta...)**

Ejemplo: 25 → **veinticinco.** 31 → **treinta y uno.**

88 _____

299 _____

123 _____

540 _____

315 _____

MATEMÁTICAS

Cuenta de 3 en 3 hasta el 99.

0 – 3 – 6 ...

Pon el signo $<$, $=$, $>$ (Recuerda fijándote en los ejemplos).

menor

$2 < 7$

igual

$17 = 17$

mayor

$28 > 5$

$59 \square 77$

$119 \square 96$

$693 \square 293$

$272 \square 722$

$88 \square 790$

$100 \square 101$

$534 \square 534$

$406 \square 604$

$300 \square 399$

$125 \square 125$

$411 \square 114$

$708 \square 718$

Coloca los números y suma. Después pon el resultado al lado del igual .

Recuerda colocar las unidades con las unidades, las decenas con las decenas y las centenas con las centenas.

$156 + 8 + 12 =$

$895 + 350 + 121 =$

$79 + 32 + 240 =$

$6 + 59 + 900 =$

LENGUA

Comprensión lectora

El huerto de mi abuelo

Mi abuelo plantó unas semillas en su huerto. Para ello usó el rastrillo que le regalé en su cumpleaños. A los pocos días brotaron unas florecillas de color amarillo.

¿Quién plantó unas semillas?

¿ En dónde plantó las semillas?

¿Qué herramienta utilizó para plantar?

¿Qué pasó al poco tiempo?

Copia las palabras que terminan en -illo, -illa,-illos,-illas.

Forma palabras terminadas en –illo o –illa.

bolso _____

carta _____

borde _____

mesa _____

LENGUA

Separa las palabras y escribe las oraciones.

este árbol ha dado muchos frutos

ella sabe patinar fenomenal

tu amigo es desobediente

Escribe una oración con estas palabras.

mariposas

colores

flor

Jirafa

hojas

árboles

semillas

planta

maceta

LINGUA GALEGA

Escrebe as oracións en minúscula. Despois une as palabras destacadas co debuxo correspondente. (En caso de non fotocopiar deberedes facer os debuxos).

O **ESQUÍO** BAIXOU DO **CARBALLO**.



HAI UN **LIMOEIRO** CHEO DE **LIMÓNS**.



A **XOANIÑA** É VERMELLA CON PUNTOS NEGROS.



Coloca os artigos indeterminados (un, unha, uns, unhas).

- Collín _____ limóns no limoeiro.
- Na planta había _____ xoaniña e _____ escaravello.
- Atopei _____ esquíu comendo _____ landras.
- Onte merquei _____ tomates e _____ cenorias.

Completa o cadro.

MASCULINO	FEMININO
O neno	A ...
	A amiga
O boneco	
	A panadeira

Comprensión lectora

Os meses do ano

Xa vén xaneiro, o mes primeiro,
Detrás febreiro o máis pequeneiro,
con marzo a primavera xermola
e en abril a chuvia molla.

Por maio floreceu a xesta,
por xuño San Xoán abraia,
en xullo xa aperta o sol
e en agosto xogamos na praia.

Setembro, como saben as uvas!
En outubro a folla a caer está,
en novembro San Martiño asoma,
e en decembro volta a empezar.

(Santiago Freire)



Como se titula a lectura?

Escribe ordenados os meses do ano. (escríbeos en galego, non te despistes!)

Quen escribiu este poema? _____

En qué mes é o teu aniversario? _____

MATEMÁTICAS

Coloca y resta. Después pon el resultado.

$601 - 320 =$	$193 - 53 =$	$444 - 102 =$
$274 - 275 =$	$800 - 400 =$	$986 - 397 =$

Escribe el anterior y posterior.

ANTERIOR Y POSTERIOR			ANTERIOR Y POSTERIOR		
	109			379	
	299			419	
	970			580	
	800			901	
	116			412	

Ordena de **menor** a **mayor**.

650 590 593 405 415 430 649

MATEMÁTICAS

Resuelve el problema.

Un grupo de personas va de excursión en barco. En un puerto bajan 57 personas y 126 continúan el viaje. ¿Cuántas personas había **al principio** en el barco?

DATOS

Bajan personas
Continúan personas

RAZONAMIENTO


Al principio iban... Hay que ...

<input type="checkbox"/> más personas	<input type="checkbox"/> sumar.
<input type="checkbox"/> menos personas	<input type="checkbox"/> restar.

OPERACIÓN

SOLUCIÓN


Cuenta y completa la suma. Debajo escribe como se lee el número.



$$\square \text{ C} + \square \text{ D} + \square \text{ U} = \square$$

$$\square + \square + \square = \square$$

→ _____



$$\square \text{ C} + \square \text{ D} + \square \text{ U} = \square$$

$$\square + \square + \square = \square$$

→ _____

LENGUA

Recuerda

Los adjetivos son palabras que nos dicen como son las personas, animales o cosas.

Rodea los adjetivos.

María es alta y rubia.

El coche es grande y verde.

Toby es un perro muy travieso y juguetón.

Juan es un niño hermoso e inteligente.

Añade los siguientes adjetivos según creas conveniente.

(Lee todos los adjetivos antes de escribirlos)

blanco bonita favorito enorme
pequeña guapa simpático alegre

La muñeca es _____ y _____ .

La bicicleta de mi hermano es _____ .

Hoy puse mi jersery _____ .

El balón que perdí era de color _____ .

Mi madre es la más _____ .

Javier es _____ y _____ .

Escribe lo contrario de las siguientes palabras:

alto →

lindo →

alegre →

cerrada →

grande →

arriba →

LENGUA

Ordena las palabras y escribe. (lee antes todas las palabras de la oración)

juegan balón. Mis conmigo amigos al

y son Ángel primos. Enrique

abuelos ayudo de los a recoger. En casa

TRABAJO PARA ENTREGAR

Esta semana deberéis entregar a mi correo, antes del viernes, la siguiente redacción.

Escribir en una hoja de doble pauta el primer día qué has salido de casa, en estas semanas de confinamiento.

Podrás contar: con quién fuiste, cómo lo pasaste, qué hiciste, qué te llamó la atención, si encontraste a alguien conocido, si mantuviste una distancia,... Mínimo 8 líneas.

Recuerda hacer muy buena letra, poner mayúscula al empezar y después del punto, escribir oraciones cortas para utilizar más los puntos y no usar tanto la y.

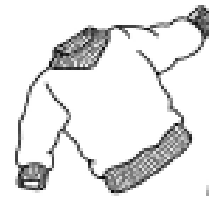

[Os recuerdo mi correo para que podáis enviarme el trabajo o cualquier foto.](#)

[Gracias.](#)


begosegundosanrosendo@gmail.com

SOCIAIS



Que produtos obtemos de cada animal? Une.



carne



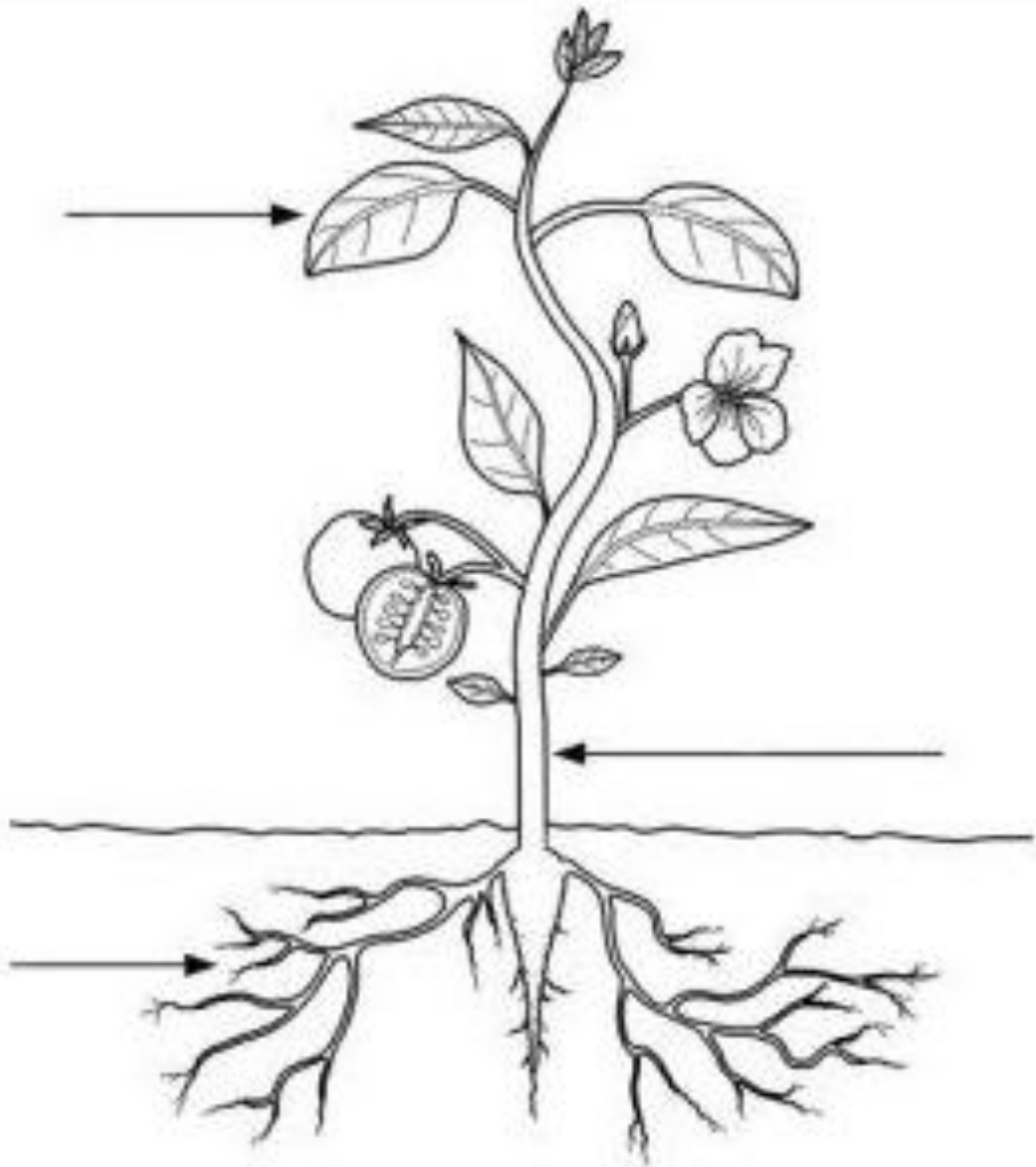
mantequilla



NATURAIS

Como van medrando as túas plantas? os que todavía non me enviaron foto, aínda están a tempo! Observa as súas partes segundo vaian medrando.

Pon as partes dunha planta.



Ponlle cor ás partes segundo corresponda.